



RAILWAY RECRUITMENT BOARDS

रेलवे भर्ती बोर्ड

RRB ALP & TECHNICIANS 2018

Roll No:	
Participants Name:	
Test Center Name:	Ideal Institute of Engineering
Test Date:	17/08/2018
Test Time:	1:00 PM - 2:00 PM
Subject:	ALP Technicians

- Options shown in green color with a tick icon are correct
- Chosen option on top right of the question indicates the option selected by the candidate

Q.1 दिए गए बक्तव्यों को सच मान कर पढ़ें और यह तय करें कि कौन से (स) निष्कर्ष बक्तव्यों का तर्कसंगत रूप से अनुसरण (क्यास है) करते हैं।

Question ID : 9864494267
Status : Answered
Chosen Option : 4

बक्तव्य:

कुछ कीड़े पक्षी हैं। सभी पक्षी फल हैं।

निष्कर्ष:

1. सभी फल पक्षी हैं।
2. कुछ कीड़े फल हैं।

Consider the given statement to be true and decide which of the given conclusion(s) logically follow(s) from the statement.

Statement:

Some bugs are birds. All the birds are fruits.

Conclusions:

1. All the fruits are birds.
2. Some of the bugs are fruits.

Ans

- 1 और 2 दोनों अनुसरण करते हैं।
Both conclusions 1 and 2 follow.
- 2 और 1 दोनों अनुसरण नहीं करते हैं।
Neither conclusion 1 nor 2 follows.
- केवल निष्कर्ष 1 अनुसरण करता है।
Only conclusion 1 follows.
- केवल निष्कर्ष 2 अनुसरण करता है।
Only conclusion 2 follows.

Q.2 पंद्रह भुजाओं वाले बहुभुज (pentadecagon) के विकर्षों की संख्या कितनी होगी?
The number of diagonals in a pentadecagon is

Question ID : 9864492935
Status : Answered
Chosen Option : 2

Ans

1. 90
2. 45
3. 60
4. 30

Q.3 लूने के पानी में कार्बन डायऑक्साइड गैस प्रवाहित करने पर यह दूधिया हो जाता है। ऐसा किसके निर्माण के कारण होता है?
Lime water turns milky when carbon dioxide is passed through it. It is due to the formation of

Question ID : 9864493492
Status : Answered
Chosen Option : 2

Ans

1. बेरियम कार्बोनेट
Barium Carbonate

- 2. कैल्शियम हाइड्रोजन कार्बोनेट
Calcium Hydrogen Carbonate
- 3. कैल्शियम कार्बोनेट
Calcium Carbonate
- 4. कैल्शियम ऑक्साइड
Calcium Oxide

Q.4 $CuO + H_2 \rightarrow Cu + H_2O$ यह प्रतिक्रिया निम्न में से किसका एक उदाहरण है।
 $CuO + H_2 \rightarrow Cu + H_2O$. This equation is an example of:

Ans

- 1. वियोजन
Decomposition
- 2. उपचयन
Oxidation
- 3. अपचयन
Reduction
- 4. रिडॉक्स
Redox

Question ID : 9864493349
Status : Answered
Chosen Option : 3

Q.5 संख्या x3331 यदि 11 से विभाज्य हो तो x का स्थानीय मान क्या है?
If the number x3331 is divisible by 11, what is the face value of x?

Ans

- 1. 5
- 2. 2
- 3. 4
- 4. 3

Question ID : 9864492684
Status : Answered
Chosen Option : 2

Q.6 नाइट्रोजन का परमाण्विक द्रव्यमान 14 है और हाइड्रोजन का 1 है। अमोनिया का आणविक द्रव्यमान कितना होगा?
Atomic mass of Nitrogen is 14 and that of Hydrogen is 1. What will be the molecular mass of Ammonia?

Ans

- 1. 16
- 2. 18
- 3. 15
- 4. 17

Question ID : 9864493428
Status : Answered
Chosen Option : 4

Q.7 प्रश्न छवि (problem figure) नीचे दी गई चार उत्तर छवियों (answer figures) में से किसी एक में प्रतिबिम्बित है। निम्न छवि में स्थित सही छवि चुनें।

Problem Figure



Answer Figures



The problem figure is embedded in one of the four answer figures. Choose the correct figure containing the following figure.

Problem Figure



Answer Figures



Ans

- 1. D
- 2. A
- 3. B
- 4. C

Question ID : 9864493862
Status : Answered
Chosen Option : 4

Q.8

Question ID : 9864493315

वैज्ञानिक वर्गीकरण (taxonomy) में वर्गीकरण की मूल इकाई क्या है ?
What is the basic unit of classification in taxonomy?

Status : Answered
Chosen Option : 3

- Ans
- 1. क्रम
Order
 - 2. नस्ल
Species
 - 3. जाति
Genus
 - 4. परिवार
Family

Q.9 दिए गए चित्र में सर्वोत्तर चतुर्भुज की संख्या का प्रतिनिधित्व करने वाले विकल्प को चुनें।

Question ID : 9864494370
Status : Answered
Chosen Option : 4



Select the option that represents the number of parallelograms in the given figure.



- Ans
- 1. 3
 - 2. 2
 - 3. 1
 - 4. 4

Q.10 दो प्रवेश पाइपों में से एक की दरता, दूसरे की तुलना में दोगुनी है। दोनों एक सिस्टम जल्दी के साथ खाल करने हुए, जो पहले 8 घंटे में एक को खाली कर सकती है, 8 घंटे में खाली एक को भर सकते हैं। कम दर वाले इनपुट पाइप द्वारा खाली एक को खाल करने के लिए कितने घंटे का समय लिया जाएगा?

Question ID : 9864492911
Status : Answered
Chosen Option : 1

One of the two inlet pipes works twice as efficiently as the other. The two, working alongside a drain pipe that can empty a cistern all by itself in 8 hours, can fill the empty cistern in 8 hours. How many hours will the less efficient inlet pipe take to fill the empty cistern by itself?

- Ans
- 1. 12
 - 2. 6
 - 3. 8
 - 4. 10

Q.11 निम्नलिखित श्रृंखला में, प्रश्न चिह्न (?) द्वारा दिखाया गया अक्षर अनुपस्थित है। दिए गए विकल्पों में अनुपस्थित अक्षर का चयन करें।

Question ID : 9864494196
Status : Answered
Chosen Option : 4

Q.N.K.H.?

In the following series, one letter is missing as shown by the question mark (?). Select the missing letter from the given options.

Q, N, K, H, ?

- Ans
- 1. A
 - 2. C
 - 3. F
 - 4. E

Q.12 निम्न हल करें:

Question ID : 9864492760
Status : Answered
Chosen Option : 1

$$123 + 12.3 + 1.23 + 0.123 + 0.0123 = ?$$

Solve the following:

$$123 + 12.3 + 1.23 + 0.123 + 0.0123 = ?$$

- Ans
- 1. 136.6653
 - 2. 136.7760
 - 3. 136.653
 - 4. 136.7659

Q.13 निम्नलिखित क्रम में से भिन्न चिन्ह का चयन करें।

Question ID : 9864494306
Status : Answered
Chosen Option : 3



Select the odd figure out of the following series.



- Ans
- 1. 1
 - 2. 2
 - 3. 3
 - 4. 4

Q.14 अधात्विक गुण बढ़ता है -

Question ID : 9864493493
Status : Answered
Chosen Option : 3

Non-metallic character increases from _____.

- Ans
- 1. सोडियम से क्लोरीन तक
Sodium to Chlorine
 - 2. मैग्नीशियम से बेरियम तक
Magnesium to Barium
 - 3. ऑक्सीजन से सेलेनियम तक
Oxygen to Selenium
 - 4. पोटैशियम से सीज़ियम तक
Potassium to Caesium

Q.15 78 किलोमीटर प्रति घंटे की गति से चलने वाली एक ट्रेन 450 मीटर लंबे प्लेटफार्मे को 27 सेकंड में पार कर लेती है। ट्रेन की लंबाई कितनी है?
A train travelling at 78 km/h crosses a 450 m long platform in 27 seconds. What is the length of the train?

Question ID : 9864492850
Status : Answered
Chosen Option : 4

- Ans
- 1. 100 मीटर
100 m
 - 2. 110 मीटर
110 m
 - 3. 130 मीटर
130 m
 - 4. 120 मीटर
120 m

Q.16 4% वार्षिक व्याज दर से ₹ 1250 की धरादधि पर 6 वर्षों का व्याज कितना होगा?
The interest on ₹ 1250 for 6 years at the rate of 4% simple interest per annum will be:

Question ID : 9864492807
Status : Answered
Chosen Option : 2

- Ans
- 1. ₹ 375
 - 2. ₹ 300
 - 3. ₹ 350
 - 4. ₹ 360

Q.17

Question ID : 9864493678
Status : Answered

दिए गए कथन पर विचार करें और निर्धारित कि प्रश्न का उत्तर देने के लिए कथन में से कौन सा कथन पर्याप्त है।

Chosen Option : 1

श्री Y ने अपने कार का खरीदी?

कथन:

1. निर्दिष्ट रूप से 18 अगस्त से पहले या 15 अगस्त से पहले नहीं।
2. निर्दिष्ट रूप से 18 अगस्त के बाद या 19 अगस्त के बाद नहीं।

Consider the given question and decide which of the following statements is sufficient to answer the question.

When did Mr. Y purchase his car?

Statements:

1. Certainly before 18th August but not before 15th August.
2. Certainly after 18th August but not later than 19th August.

Ans

1. दोनों कथन 1 और 2 पर्याप्त हैं
Both statement 1 and 2 are sufficient
2. अकेला कथन 1 पर्याप्त है जबकि अकेला कथन 2 अपर्याप्त है
Statement 1 alone is sufficient while statement 2 alone is insufficient
3. या तो कथन 1 पर्याप्त है या 2
Either statement 1 or 2 is sufficient
4. अकेला कथन 2 पर्याप्त है जबकि अकेला 1 कथन अपर्याप्त है
Statement 2 alone is sufficient while statement 1 alone is insufficient

Q.18 हाल ही में किसने भारतीय ई-व्यापार विकास बोर्ड के नए सीईओ के रूप में कार्यभार संभाला है?

Question ID : 9864492308

Status : Not Answered

Chosen Option : --

Who has recently taken charge as the new CEO of Indian e-commerce giant Flipkart?

Ans

1. सुनील दुग्गल
Sunil Duggal
2. आर.सी. भार्गव
RC Bhargava
3. कल्याण कृष्णमूर्ति
Kalyan Krishnamurthy
4. ए.ल. राजबानी
AL Rajwani

Q.19 चंपारण सत्याग्रह से पहले, चंपारण के किसान 'पंचकथिया' प्रणाली को अपनाते थे, जिसमें एक बीघा भूमि के पांच बट्टों में _____ बीघा जल था।

Question ID : 9864492105

Status : Answered

Chosen Option : 3

Before Champaran Satyagraha, the farmers of Champaran used to follow the 'panchkathiya' system, whereby five khatas of land in a bigha had to be planted with _____

Ans

1. जूट
jute
2. गन्ना
sugarcane
3. नील
indigo
4. कपास
cotton

Q.20 फरवरी 2018 में, विश्व स्वास्थ्य संगठन (एचएमएचओ) में कौन से भारतीय बाल रोग विशेषज्ञ को उप-निदेशक (कार्यक्रम) के रूप में नियुक्त किया गया है?

Question ID : 9864492225

Status : Not Answered

Chosen Option : --

As of February 2018, which Indian paediatrician has been appointed as the Deputy Director General (Programmes) in the World Health Organisation (WHO)?

Ans

1. डॉ. इंदिरा हिंदुजा
Dr. Indira Hinduja
2. डॉ. एस. आई. पद्मावती
Dr. SI Padmavati

3. डॉ. कामिनी राव
Dr. Kamini Rao
4. डॉ. सौम्या स्वामीनाथन
Dr. Soumya Swaminathan

Q.21 फरवरी 2018 में, एक राज्य सरकार अभियान के लिए फिल्म प्रसिद्ध बॉलीवुड अभिनेता को 'ब्रान्ड एम्बेसडर' के रूप में नामित किया गया था?
As of February 2018, which famous Bollywood actor has been named as the brand ambassador of 'Rustang Rajasthan', a state government campaign?

Question ID : 9864492291
Status : Answered
Chosen Option : 2

- Ans
1. राहुल सिंह
Rahul Singh
2. इरफान खान
Irrfan Khan
3. अनुपम खेर
Anupam Kher
4. अमिताभ बच्चन
Amitabh Bachchan

Q.22 लोहे दिए गए कथनों को सही मानें और यह निर्णय लें कि कथनों के बीच से निष्कर्षों का संकेक्षण क्या से पालन हो रहा है।

Question ID : 9864493643
Status : Answered
Chosen Option : 2

कथन:
सचिन अच्छे बालेबाज है। बालेबाज बुद्धिमान होते हैं।

निष्कर्ष:
1. सभी बुद्धिमान व्यक्ति बालेबाज हैं।
2. सचिन बुद्धिमान है।

Consider the given statements to be true and decide which of the conclusions logically follow(s) from the statements.

Statements
Sachin is a good batsman. Batsmen are intelligent.

Conclusions
1. All intelligent people are batsman.
2. Sachin is intelligent.

- Ans
1. निष्कर्ष 1 और 2 दोनों का पालन हो रहा है।
Both 1 and 2 follow.
2. केवल निष्कर्ष 2 का पालन हो रहा है।
Only conclusion 2 follows.
3. केवल निष्कर्ष 1 का पालन हो रहा है।
Only conclusion 1 follows.
4. न तो 1 का और न ही 2 का पालन हो रहा है।
Neither 1 nor 2 follows.

Q.23 एजाज का जन्म 5 जनवरी 2015 को हुआ था जबकि फैज का जन्म उसके 553 दिनों के बाद हुआ फैज का जन्म किस तारीख को हुआ था?
Ajaz was born on 5th January 2015, while Faiz was born 553 days later. On which date was Faiz born?

Question ID : 9864492713
Status : Answered
Chosen Option : 1

- Ans
1. 11 जुलाई 2016
11th July 2016
2. 12 जुलाई 2016
12th July 2016
3. 9 जुलाई 2016
9th July 2016
4. 10 जुलाई 2016
10th July 2016

Q.24 सोल जो कि नुर्गो मे कोबाल्ट और निकल जैसा होता है, को इन तत्वों से बहुत दूर रखा गया है। यह विपरीत स्थिति में से एक है :
Iron which resembles Cobalt and Nickel in properties has been placed far away from these elements. This was one of the limitations of

Question ID : 9864493254
Status : Answered
Chosen Option : 1

- Ans
- 1. डॉबरीनर के त्रिक
Dobereiner's triads
 - 2. मेंडेलीव की आवर्त सारणी
Mendeleev's periodic table
 - 3. आधुनिक आवर्त सारणी
Modern periodic table
 - 4. न्यूक्लैड्स का ओक्टेड्स नियम
Newlands' law of octaves

Q.25 मान लें एक काल्पनिक ग्रह, जिसका द्रव्यमान पृथ्वी के आधे के बराबर और त्रिज्या एक तिहाई के बराबर है। यदि पृथ्वी से स्थल पर गुरुत्वाकर्षण के कारण त्वरण g है, तो उस ग्रह पर गुरुत्वाकर्षण के कारण त्वरण कितना होगा?
Consider a hypothetical planet with a mass equal to half that of Earth and radius is one-third that of Earth. If g is the acceleration due to gravity on Earth, the acceleration due to gravity on the planet will be:

Question ID : 9864493440
Status : Not Answered
Chosen Option : --

- Ans
- 1. $(5/2)g$
 - 2. $(1/2)g$
 - 3. $(3/2)g$
 - 4. $(9/2)g$

Q.26 एक रुपये, 50 पैसे और 25 पैसे के कुछ सिक्कों का मूल्य 91.75 रुपये है और उनकी संख्या का अनुपात 3 : 4 : 5 है। प्रत्येक प्रकार के सिक्के की संख्या ज्ञात कीजिए।
Some one rupee, 50 paise and 25 paise coins make up rupees 91.75 and their numbers are in the proportion of 3 : 4 : 5. Find the number of each type of coins?

Question ID : 9864492485
Status : Answered
Chosen Option : 3

- Ans
- 1. 42, 56, 70
 - 2. 46, 58, 75
 - 3. 45, 60, 75
 - 4. 40, 70, 75

Q.27 किसी समलम्बचतुर्भुज की एक भुजा की लम्बाई बताते जिसका क्षेत्रफल 24 वर्ग सेंटीमीटर है और इसके विकर्णों के लम्बाई का योग 14 सेंटीमीटर हो।
Find the length of one side of a rhombus whose area is 24 cm^2 and the sum of the lengths of its diagonals is 14 cm.

Question ID : 9864492794
Status : Answered
Chosen Option : 2

- Ans
- 1. 4 सेंटीमीटर
4 cm
 - 2. 5 सेंटीमीटर
5 cm
 - 3. 3 सेंटीमीटर
3 cm
 - 4. 6 सेंटीमीटर
6 cm

Q.28 रिक्त स्थान में सबसे उपयुक्त विकल्प भरें।
गुरुत्वाकर्षण का सार्वभौमिक नियतांक है _____।
Fill in the blank with the most appropriate option.

Question ID : 9864493462
Status : Not Answered
Chosen Option : --

- The Universal Constant of Gravitation is _____.
- Ans
- 1. $6.67 \times 10^{10} \text{ Nm}^2/\text{kg}^2$
 - 2. $6.76 \times 10^{-10} \text{ Nm}^2/\text{kg}^2$
 - 3. $6.67 \times 10^{-11} \text{ Nm}^2/\text{kg}^2$
 - 4. $9.8 \text{ Nm}^2/\text{kg}^2$

Q.29


Question ID : 9864493679

सही चित्र के साथ खाली जगह को भरें।

Status : Answered
Chosen Option : 4



Fill in the missing space with the correct figure.



- Ans
- 1. B
 - 2. D
 - 3. C
 - 4. A

Q.30 भारतीय राष्ट्रपति (फरवरी 2018 में) राम नाथ कोविंद किस राज्य से आते हैं?
Ram Nath Kovind, the Indian President as of February 2018, hails from which state?

Question ID : 9864492387
Status : Answered
Chosen Option : 2

- Ans
- 1. उत्तर प्रदेश
Uttar Pradesh
 - 2. राजस्थान
Rajasthan
 - 3. पंजाब
Punjab
 - 4. गुजरात
Gujarat

Q.31 वैश्विक डिजिटल नृसिद्धि की मुख्य मजल संस्थागत अधिकारी बनने वाली पहली महिला और पानी एशियाई बॉन है? संयोगवत् वह एक भारतीय है।
Who is the first female and the first ever Asian to become the Chief Human Resources Officer of the Global Giant Unilever? She is incidentally an Indian.

Question ID : 9864492254
Status : Answered
Chosen Option : 1

- Ans
- 1. इन्द्रा नूयी
Indra Nooyi
 - 2. लीना नायर
Leena Nair
 - 3. पद्मश्री वॉरियर
Padmasree Warrior
 - 4. अल्का बैनर्जी
Alka Banerjee

Q.32 P, Q की माँ के इकलौते पुत्र की पत्नी है। P किस रूप में Q से संबंध रखती है?
P is S's mother's only son's wife. How is P related to S?

Question ID : 9864494359
Status : Not Answered

Ans

1. सास
Mother-in-law
2. ननद/ भाभी /साली/ जेठानी/ देवरानी
Sister-in-law
3. बहन
Sister
4. बहु
Daughter-in-law

Chosen Option : --

Q.33 NTP पर गैस X के 10 ग्राम का आयतन 5.6 लीटर है। X का अणुविक्रम भार क्या है?
The volume of 10 g of gas X is 5.6 litre at NTP. What is the molecular weight of X?

Ans

1. 40
2. 50
3. 20
4. 60

Question ID : 9864493127

Status : Not Answered

Chosen Option : --

Q.34 निम्नलिखित में से कौन सी संख्या 9 से विभाज्य है?
Which of the following numbers is divisible by 9?

Ans

1. 45654
2. 45678
3. 12321
4. 12345

Question ID : 9864492804

Status : Answered

Chosen Option : 3

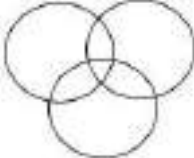



Q.35 निम्न में से कौन सा वेन आरेख निम्नलिखित वर्गों का सही ढंग से प्रतिनिधित्व करता है:

शेर, बाघ, पशु

Which of the following Venn diagrams correctly represents the following classes:

Lion, Tiger, Animals

Ans

1. 
2. 
3. 
4. 

Question ID : 9864493660

Status : Answered

Chosen Option : 4

Q.36 जिस प्रकार 'एकाकी' 'अव्यक्त' से संबंधित है, उसी प्रकार 'साथ' _____ से संबंधित है।
'Alone' is related to 'Unaccompanied' in the same way as 'Amongst' is related to _____.

Ans

1. विविक्त
Secluded
2. परिमाण
Quantity
3. निर्जन
Solitary
4. धड़क
Quake

Question ID : 9864494064

Status : Answered

Chosen Option : 2

Q.37

Question ID : 9864493437

निम्न में से कौन सा चीन और अर्सेनिक दोनों कर्मों से उत्पन्न होता है?
Which of the following reproduce both, sexually as well as asexually?

Status : Answered
Chosen Option : 1

Ans

- 1. कवक
Fungi
- 2. एलगे (Algae)
Algae
- 3. एमीबा
Amoeba
- 4. हाइड्रा (Hydra)
Hydra

Q.38 इस विटामिन का नाम बताएं जिसकी कमी के कारण अत्यधिक रक्त बहने लगता है?
Name the vitamin whose deficiency causes excessive bleeding?

Question ID : 9864493436
Status : Answered
Chosen Option : 4

Ans

- 1. विटामिन B
Vitamin B
- 2. विटामिन C
Vitamin C
- 3. विटामिन A
Vitamin A
- 4. विटामिन K
Vitamin K

Q.39 यदि किसी अवतल दर्पण पर आपतन का कोण 30° हो तो परावर्तन के कोण का मान क्या होगा?
If the angle of incidence formed on a concave mirror at a point is 30° then the angle of reflection will be:

Question ID : 9864493485
Status : Answered
Chosen Option : 4

Ans

- 1. 90°
- 2. 60°
- 3. 15°
- 4. 30°

Q.40 यदि दी गई श्रृंखला को उल्टे क्रम में लिखा जाए तो दाएं छोर से 10वां पद के बाएं 5वां पद क्या होगा?

Question ID : 9864494072
Status : Answered
Chosen Option : 3

R+JM25AQR?+O@7F3

If the given series is written in the reverse order, then what will be the 5th term to the left of the 10th term from right end?

R+JM25AQR?+O@7F3

Ans

- 1. F
- 2. 7
- 3. O
- 4. +

Q.41 0.9 का वर्गमूल किसके बराबर है?

Question ID : 9864492580
Status : Answered
Chosen Option : 2

Square root of 0.9 is equal to

Ans

- 1. 0.3
- 2. 0.9487
- 3. 0.9463
- 4. 0.03

Q.42 कब्ररी 2018 से दिल्ली की अर्जुनोपल टीम 'दिल्ली डेनरोविलिस' का मालिक बनता है?
As of February 2018, who owns the Delhi-based IPL team 'Delhi Daredevils'?

Question ID : 9864492169
Status : Answered
Chosen Option : 1

Ans

- 1. जी.एम.आर. समूह
GMR Group

- 2. शाहरुख खान
Shah Rukh Khan
- 3. वीरेंद्र सहवाग
Virender Schwag
- 4. शिल्पा शेठ्टी
Shilpa Shetty

Q.43 दिए गए चार विकल्पों (Answer figures) में से सही की गई चार आकृतियों (Problem figures) का जल में बने चार सही प्रतिबिंब चुनें।

Problem Figure



Answer Figures



From the given four answer figures choose the correct water image of the problem figure.

Problem Figure



Answer Figures



- Ans
- 1. B
 - 2. A
 - 3. D
 - 4. C

Question ID : 9864493732
Status : Answered
Chosen Option : 4

Q.44 यदि एक डेटा के माध्य, मॉडियस और बहुलक को A, B और C द्वारा दर्शाया जाता है और $A : B = 9 : 8$ है, तो $B : C$ क्या होगा?
If A, B and C are denoting Mean, Median and Mode of a data and $A : B = 9 : 8$ then the ratio of B : C is:

- Ans
- 1. 8 : 9
 - 2. 4 : 3
 - 3. 5 : 4
 - 4. 7 : 6

Question ID : 9864492597
Status : Not Answered
Chosen Option : --

Q.45

Question ID : 9864493876
Status : Answered
Chosen Option : 4

एक घंटे एक परिवार के प्रति माह के घरेलू व्यय का प्रतिनिधित्व करता है। अगर परिवार की आय मासिक ₹ 33,650 है तो परिवार द्वारा मनोरंजन और भोजन पर एक महीने में खर्च कितना हुआ है:



Expenditure of Family - परिवारिक व्यय

Provident Fund - भविष्य तिथि

Food- खाद पदार्थ

House Rent - घर का किराया Entertainment - मनोरंजन

Child Education - बच्चों की पढ़ाई

Medical - दवाइयों

The chart represents the domestic expenditure of a family per month. If the family income is ₹ 33,650 then the total money spent by the family on entertainment and food together per month is:



Expenditure of Family - परिवारिक व्यय

- Ans
- 1. ₹ 11,442
 - 2. ₹ 11,414
 - 3. ₹ 11,144
 - 4. ₹ 11,441

Q.46 यदि L माने +, M माने -, N माने = और P माने ×, तो $8N \div L \cdot 60 P \cdot 3 M \cdot 13 = ?$
If L stands for +, M stands for -, N stands for = and P stands for ×, then $8N \div L \cdot 60 P \cdot 3 M \cdot 13 = ?$

- Ans
- 1. 95
 - 2. 79
 - 3. 89
 - 4. 103

Question ID : 9864494349
Status : Not Answered
Chosen Option : --

Q.47 वायु का निरपेक्ष अपवर्तक सूचकांक कितना है:

The absolute refractive index of air is:

- Ans
- 1. 1.03
 - 2. 1.003
 - 3. 1.0003
 - 4. 1.00003

Question ID : 9864493183
Status : Answered
Chosen Option : 1

Q.48 जोड़े दिए गए श्रेणी को पूर्ण करने के लिए सही विकल्प का चयन करें।

EHI, FJK, GLM, HNO, _____

Select the correct option to complete the following letter series.

EHI, FJK, GLM, HNO, _____

- Ans
- 1. IMN
 - 2. IPQ
 - 3. IRS
 - 4. IQP

Question ID : 9864494099
Status : Answered
Chosen Option : 1

Q.49 एक व्यक्ति 40 किलोमीटर प्रति घंटे की गति से गाड़ी चलाकर ऑफिस 1 मिनट पहले पहुंच जाता है, जबकि 36 किलोमीटर प्रति घंटे की गति से गाड़ी चलाने पर वह ऑफिस 3 मिनट देर से पहुंचता है। घर से ऑफिस जाने में वह कितनी दूरी (किलोमीटर में) तय करता है?

A person driving at the speed of 40 km/hr reaches office 1 minute early while he reaches 3 minutes late if driving at 36 km/hr. What is the distance in km that she is covering?

Question ID : 9864492670
Status : Answered
Chosen Option : 3

- Ans
- 1. 28
 - 2. 32
 - 3. 24
 - 4. 30

Q.50 दिए गए कथनों को सच मान कर चर्चे और यह तय करें कि कौन से निष्कर्ष कथनों से से निरिक्त रूप से निकाले जा सकते हैं।

कथन:
सभी सेब सस्ते हैं। जड़े भी सस्ते फल बरसा नहीं है।

- निष्कर्ष:
1. सभी सेब सस्ते हैं।
 2. सस्ते सेब सस्ते नहीं हैं।

Consider the given statements true and decide which of the given conclusions can definitely be drawn from the given statements.

Statements:
All apples are red. No red fruits are cheap.

- Conclusions:
1. All apples are cheap.
 2. Red apples are not cheap.

- Ans
- 1. 1 और 2 दोनों अनुसरण करते हैं।
Both 1 and 2 follow.
 - 2. केवल निष्कर्ष 1 अनुसरण करता है।
Only conclusion 1 follows.
 - 3. केवल निष्कर्ष 2 अनुसरण करता है।
Only conclusion 2 follows.
 - 4. 1 और 2 दोनों अनुसरण नहीं करते हैं।
Neither 1 nor 2 follows.

Question ID : 9864493992
Status : Answered
Chosen Option : 3

Q.51 किसी मिश्रण में 15% चांदी है। मिश्रण के किसी अंश में यदि 51 ग्राम चांदी है तो दूसरे भाग की मात्रा क्या है?
15% of an alloy was silver. If in a quantity of alloy there was 51 g of silver, what was the quantity of the other elements in the alloy?

- Ans
- 1. 340 ग्राम
340 g
 - 2. 289 ग्राम
289 g
 - 3. 300 ग्राम
300 g
 - 4. 204 ग्राम
204 g

Question ID : 9864492666
Status : Answered
Chosen Option : 2

Q.52 निम्नलिखित में से सही सा विकल्प दिए गए चित्र के सही दर्पण प्रतिबिंब को दर्शाए है?

WESTERN
Which of the options depicts the correct mirror image of the following figure:

- Ans
- 1. WESTERN
 - 2. WESTERN
 - 3. WESTERN
 - 4. WESTERN

Question ID : 9864494038
Status : Answered
Chosen Option : 1

Q.53 एक वस्तु को 10 सेंटीमीटर की फोकल अक्षाई वाले एक अवलोकन लेंस के मुख्य अक्ष पर रखा जाता है। यदि लेंस से वस्तु की दूरी 30 सेंटीमीटर है, तो प्रतिबिंब किसकी दूरी पर बनेगा ?
An object is placed on the principal axis of a convex lens of focal length 10 cm. If the distance of the object from the lens is 30 cm, what is the distance of the image formed?

Ans

Question ID : 9864493244
Status : Answered
Chosen Option : 4

- 1. 20 सेंटीमीटर
20 cm
- 2. 10 सेंटीमीटर
10 cm
- 3. 30 सेंटीमीटर
30 cm
- 4. 15 सेंटीमीटर
15 cm

Q.54 निम्नलिखित में से कौन सा नवीकरणीय ऊर्जा का स्रोत नहीं है?
Which of the following is NOT a renewable source of energy?

Question ID : 9864493566
Status : Answered
Chosen Option : 3

- Ans
- 1. सौर ऊर्जा
Solar energy
 - 2. पवन ऊर्जा
Wind energy
 - 3. जीवाश्मों से ऊर्जा
Energy from fossils
 - 4. भूतापीय ऊर्जा
Geothermal energy

Q.55 यदि समीकरण $4x + 3y + 5 = 0$ और $6x - ky - 7 = 0$ का कोई हल न हो तो k का मान कितना होगा?
If the equations $4x + 3y + 5 = 0$ and $6x - ky - 7 = 0$ have no solution, then the value of k is:

Question ID : 9864492916
Status : Not Answered
Chosen Option : --

- Ans
- 1. - 4.5
 - 2. - 8
 - 3. 8
 - 4. 4.5

Q.56 चित्र A एवं C के आधार पर, उस विकल्प का चयन करें, जिसे चित्र B में प्रश्न चिह्न (?) से बदला जा सकता है।

Question ID : 9864494158
Status : Answered
Chosen Option : 1



Based on figures A and C, select the option that can replace the question mark (?) in figure B.



- Ans
- 1. 41
 - 2. 37
 - 3.
 - 4. 47

Q.57 दो वृत्तों की त्रिज्या 3.5 सेंटीमीटर, 4.5 सेंटीमीटर और उनके केंद्रों के बीच की दूरी 10 सेंटीमीटर है। वे अनुसृत्य समान स्पर्शरेखा की लंबाई ज्ञात कीजिए।
Find the length of a transverse common tangent of the two circles whose radii are 3.5cm, 4.5cm and the distance between their centres is 10cm.

Question ID : 9864492598
Status : Not Answered
Chosen Option : --

- Ans
- 1. 8 सेंटीमीटर
8 cm
 - 2. 6.4 सेंटीमीटर
6.4 cm
 - 3. 6 सेंटीमीटर
6 cm

4. 3.6 सेंटीमीटर
3.6 cm

Q.58 _____ कार्बन का एक अपरूप नहीं है।
_____ is not an allotrope of carbon.

Question ID : 9864493491
Status : Answered
Chosen Option : 3

- Ans
- 1. बकमिन्स्टर फुलेरीन
Buckminsterfullerene
 - 2. हीरा
Diamond
 - 3. कार्बन डाइऑक्साइड
Carbon Dioxide
 - 4. ग्रेफाइट
Graphite

Q.59 निम्न हल करें,
 $24 \div (19 - 9 \div 3 \times 9) = ?$
Solve the following:
 $24 \div (19 - 9 \div 3 \times 9) = ?$

Question ID : 9864492719
Status : Answered
Chosen Option : 3

- Ans
- 1. 3
 - 2. 8
 - 3. - 3
 - 4. - 4

Q.60 मान लें कि निम्न चित्रों में से प्रत्येक में संख्याएँ एक समान पैटर्न का अनुसरण करती हैं, उस विकल्प का चयन करें जो चित्र B में दिए गए प्रश्न चिह्न (?) को बदल सकता है।

Question ID : 9864494233
Status : Not Answered
Chosen Option : --



Assuming that the numbers in each of the following figures follow a similar pattern, select the option that can replace the question mark (?) in figure B.



- Ans
- 1. 117
 - 2. 100
 - 3. 78
 - 4. 63

Q.61 दिए गए विकल्पों में से संबंधित शब्द का चयन करें।

यदि FROG : 9268, HANG : 2538, तो FORT कोष्ठ के रूप में _____ बदल दिया गया है।

Question ID : 9864493869
Status : Answered
Chosen Option : 2

Select the related word from the given alternatives:

If FROG : 9268, HANG : 2538, then FORT is coded as _____.

- Ans
- 1. 9762
 - 2. 9627
 - 3. 9672
 - 4. 9327

Q.62 एक धारणा 5 % वार्षिक सधारण व्याज पर 5% वर्ष के अंत में कुल ₹2,790 हो जाती है। निवेश की गई राशि कितनी थी?
At 5% simple interest per annum a certain sum yields a total amount of ₹ 2,790 at the end of $5\frac{1}{2}$ years. The sum invested was:

Question ID : 9864492927
Status : Answered
Chosen Option : 1

- Ans
- 1. ₹ 2,400
 - 2. ₹ 2,600

3. ₹ 2,350

4. ₹ 2,550

Q.63 56, 84 और 112 का ल.स. कितना है?

The LCM of 56, 84 and 112 is:

Ans 1. 168

2. 420

3. 336

4. 210

Question ID : 9864492922

Status : Answered

Chosen Option : 3

Q.64 SI इकाई का भार क्या है:

The SI unit of weight is a:

Ans 1. डाइन

2. Dyne

3. ग्राम

4. Gram

5. न्यूटन

6. Newton

7. किलोग्राम

8. Kg

Question ID : 9864493499

Status : Answered

Chosen Option : 2

Q.65 निम्न प्रश्न में सबसे उपयुक्त विकल्प भरें :

यदि एक पौधे का आनुवंशिकी (Genotype) $ttRr$ है, तो आनुवंशिकी (Phenotype) _____

होगा :

Fill in the blank with the most appropriate option.

If the genotype of a plant is $ttRr$, the phenotype would be _____.

Ans 1. लंबा और झुर्रीदार

2. Tall and Wrinkled

3. बौना और गोल

4. Dwarf and Round

5. बौना और झुर्रीदार

6. Dwarf and Wrinkled

7. लंबा और गोल

8. Tall and Round

Question ID : 9864493478

Status : Not Answered

Chosen Option : --


Q.66

Question ID : 9864493861

Status : Not Answered

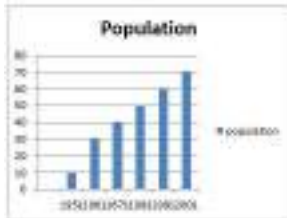
Chosen Option : --

किस वर्ष पिछले वर्ष की तुलना में जनसंख्या में प्रतिशत वृद्धि सबसे अधिक है?



Population - जनसंख्या

The percentage increase in the population is highest as compared to that of the previous year in the year:



- Ans
- 1. 1971
 - 2. 1961
 - 3. 1981
 - 4. 2001

Q.67 दो पाइप किसी खाली टैंक को अकेले क्रमशः 25 और 40 घंटों में भर देते हैं जबकि एक तीसरा पाइप जो दूरा टैंक को 16 घंटों में खाली कर देता है। जब टैंक पूरी तरह से खाली हो और तीनों पाइपों को एक साथ बंद दिया जाये तो टैंक पिछले समय में भा जायेगा?

Two pipes fill a tank when working individually in 25 and 40 hours, respectively while a third pipe can drain the filled tank in 16 hours. If all the three pipes are turned on at the same time when the tank is empty, how long will it take to fill the tank completely?

- Ans
- 1. 16 दिन 16 घंटे
16 days 16 hours
 - 2. 15 दिन 18 घंटे
15 days 18 hours
 - 3. 1 दिन 7 घंटे
1 day 7 hours
 - 4. 2 दिन 1 घंटे
2 days 1 hour

Question ID : 9864492831
Status : Not Answered
Chosen Option : --

Q.68 किस टीम ने जनवरी 2018 में पहली बार रणजी ट्रॉफी जीतकर इतिहास रच दिया?

Which team created history by winning the Ranji Trophy for the first time in January 2018?

- Ans
- 1. केरल
Kerala
 - 2. विदर्भ
Vidarbha
 - 3. ओडिशा
Odisha
 - 4. पश्चिम बंगाल
West Bengal

Question ID : 9864492400
Status : Answered
Chosen Option : 2

Q.69 विमानचिह्नित पर्वत श्रृंखलाओं में से किसके सबसे ऊंचे पर्वत को 'चतुःशिखर श्रृंखला' कहा जाता है?

The tallest peak of which of the following mountain ranges is a mountain called 'Chatur Shikhar'?

- Ans
- 1. विन्ध्य पर्वत श्रृंखला
Vindhya Range

Question ID : 9864492124
Status : Not Answered
Chosen Option : --

- 2. पश्चिमी घाट पर्वत श्रृंखला
Western Ghats Range
- 3. अरावली पर्वत श्रृंखला
Aravalli Range
- 4. सतपुड़ा पर्वत श्रृंखला
Satpura Range

Q.70 दिए गए प्रश्न पर विचार करें और तब करें कि निम्नलिखित कथनों में से कौन-सा कथन प्रश्न का उत्तर देने के लिए पर्याप्त है।

U, V, W, X और Y एक गोल मेज के आस-पास बैठे हैं; B के पास कौन बैठा है?

कथन:

1. D, A और F के बीच बैठा है।
2. C, D और F के बीच बैठा है।

Consider the given question and decide which of the following statements is sufficient to answer the question.

U, V, W, X and Y are sitting at a round table; who is sitting next to B?

Statements:

1. D is sitting between A and F.
2. C is sitting between B and F.

Ans

1.

दिए गए प्रश्न का उत्तर देने के लिए 1 अकेला पर्याप्त है, जबकि 2 अकेला पर्याप्त नहीं है।

1 alone is sufficient while 2 alone is not sufficient to answer the given question.

2.

दिए गए प्रश्न का उत्तर देने के लिए 2 अकेला पर्याप्त है, जबकि 1 अकेला पर्याप्त नहीं है।

2 alone is sufficient while 1 alone is not sufficient to answer the given question.

3.

दिए गए प्रश्न का उत्तर देने के लिए न तो 1 न ही 2 पर्याप्त है।
Neither 1 or 2 is sufficient to answer the given question.

4.

दिए गए प्रश्न का उत्तर देने के लिए 1 और 2 दोनों पर्याप्त हैं।
Both 1 and 2 are sufficient to answer the given question.

Question ID : 9864494002
Status : Not Answered
Chosen Option : --

Q.71 उपरोक्त प्रस्तावित अंश के लिए कौन से कन्नड़ लेखक को सहाय्य अकादमी पुरस्कार मिला था?
Which Kannada writer received the Sahitya Akademy Award for his novel 'Swatantrya Oka'?

Ans

1.

गिरीश कर्नाड
Girish Karnad

2.

वैदेही
Vaidehi

3.

सी. एन. रामचंद्रन
C.N. Ramachandran

4.

बौलवार महाम्मद कुन्ही
Bolwar Mahammad Kunhi

Question ID : 9864492262
Status : Not Answered
Chosen Option : --

Q.72

Question ID : 9864494270
Status : Not Answered
Chosen Option : --

दिए गए कथन पर विचार करें और तय करें कि दो गढ़े मान्यताओं में से कौन से निहित है (हैं)।

कथन:

एक वर्ष में अपने पैसे को तीन गुना करें - एक विज्ञापन।

मान्यताएँ:

1. आश्चर्यजनक तथ्य नहीं है।
2. लोग चाहते हैं कि उनका पैसा बढ़ जाए।

Consider the given statement and decide which of the given assumptions is (are) implicit.

Statement:

'Triple your money in one year' — an advertisement.

Assumption:

- I. The statement is not genuine.
- II. People want their money multiplied.

Ans

1. 1 और 2 दोनों निहित हैं।
Both assumptions I and II are implicit.
2. केवल मान्यता 1 निहित है।
Only assumption I is implicit.
3. 1 और 2 दोनों निहित नहीं हैं।
Neither assumption I nor II is implicit.
4. केवल मान्यता 2 निहित है।
Only assumption II is implicit.

Q.73 तर्क पर ध्यानपूर्वक विचार करें और निर्णय करें कि कौसे नोट दिए गए कौन सा अनुमान निहित है।

तर्क:

एक शीर्ष विश्वविद्यालय ने कक्षा 12 के गणित के पाठ्यक्रम में बदौती की है।

अनुमान:

1. छात्र पहले की तुलना में गणित में अधिक अंक ला सकते हैं।
2. यह छात्रों में गणित के रुचक और बोझ को कम करने के लिए किया गया है।

Consider the argument and decide which of the given assumptions is/are implicit.

Argument:

A top university has reduced the syllabus of Mathematics in Class 12.

Assumptions:

1. Students can score more marks than before in Mathematics.
2. This has been done to reduce the stress and burden of the students in Mathematics.

Ans

1. केवल अनुमान 1 निहित है
Only assumption 1 is implicit
2. केवल अनुमान 2 निहित है
Only assumption 2 is implicit
3. न तो 1 और न ही 2 निहित है
Neither 1 and 2 is implicit
4. 1 और 2 दोनों निहित हैं
Both 1 and 2 are implicit

Question ID : 9864493719

Status : Not Answered

Chosen Option : --

Q.74 गतिज ऊर्जा किसके बराबर है:

Kinetic energy is equal to:

Ans

1. mv
2. mgh
3. Ma
4. $\frac{1}{2}mv^2$

Question ID : 9864493182

Status : Answered

Chosen Option : 4

Q.75

Question ID : 9864493090

यदि हम थोड़ा सा सोडा की बोरी सी मात्रा लेते हैं और इसमें लगभग 1 mL. लवु हाइड्रोक्लोरिक अम्ल मिलाने हैं, तो हम क्या देखेंगे?

If we take a small amount of washing soda and add approximately 1 mL. of dilute hydrochloric acid to it, what will we observe?

Ans

1.

केवल उदासीनीकरण अभिक्रिया होती है, कोई गैस नहीं निकलती।

Only neutralisation reaction occurs, no gas is released.

2. दूधिया रंग की तलछट बन जाती है।

White-coloured precipitate is formed.

3. CO₂ गैस तेज बुदबुदाहट के साथ निकलती है।

CO₂ gas comes out with brisk effervescence.

4. पॉप की ध्वनि के साथ H₂ गैस निकलती है।

H₂ gas comes out with pop sound.